

WISKUNDE

GR.2

Julle is almal sterre.
Kom ons begin die
Wiskunde week van
breuke.



WISKUNDE

Week 6: Breuke

Maandag: Werkkaart 25

Dinsdag: Werkkaart 26

Woensdag: Werkkaart 27

Donderdag: Werkkaart 28

**Al die werkkaarte vir breuke is
aangeheg**




Laerskool Kruinsig
Wiskunde
Kwartaal 2 Week 6
Breuke

Halwes

halwe	halwe
-------	-------

= 'n half

= een van twee dele



Derdes

een derde	een derde	een derde
-----------	-----------	-----------

= 'n derde

= een van drie dele

Vierdes/ Kwart

een vierde	een vierde	een vierde	een vierde
------------	------------	------------	------------

= 'n kwart

= een van vier dele



Vyfdes

een vyfde	een vyfde	een vyfde	een vyfde	een vyfde
-----------	-----------	-----------	-----------	-----------

= 'n vyfde

= een van vyf dele

Laerskool Kruinsig
Wiskunde
Kwartaal 2 Week 6
Werkkaart 25

1. Kleur een breukdeel in.

a.	halwe	halwe
----	-------	-------

b.	een derde	een derde	een derde
----	-----------	-----------	-----------

c.	een vierde	een vierde	een vierde	een vierde
----	------------	------------	------------	------------

d. Watter breukdeel is die grootste?

e. Watter breukdeel is die kleinste?

2. Kleur drie breukdele in.

a.			
----	--	--	--


b.				
----	--	--	--	--

c.					
----	--	--	--	--	--

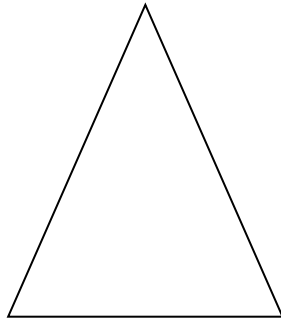
Laerskool Kruinsig
Wiskunde
Kwartaal 2 Week 6
Werkkaart 26

1. Verdeel die die volgende vorms in halwes


a.



b.




c.




2. Verdeel die volgende vorms in kwarte


a.



b.

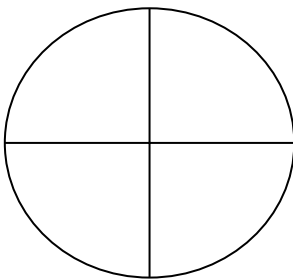


c.

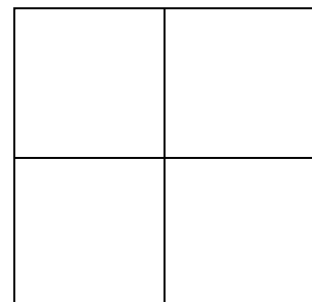


3. Kleur 2 breukdele in

a.



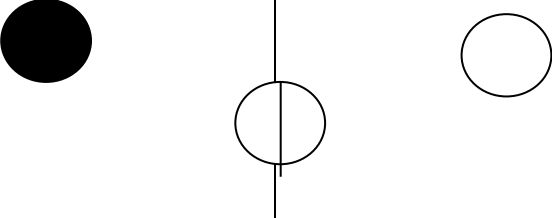
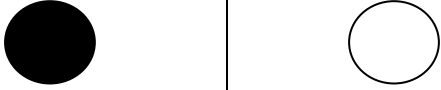


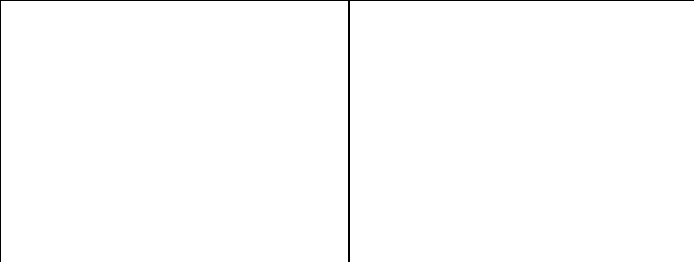



b.



Laerskool Kruinsig
Wiskunde
Kwartaal 2 Week 6
Werkkaart 27

Om iets te halveer beteken om dit gelykop te verdeel.
Indien dit nie gelykop kan verdeel nie, bly daar 'n res oor.
Kyk na die voorbeeld en deel die res op dieselfde manier.

1. Verdeel die volgende in die helte

a. Die helfte van 3	b. Die helfte van 2
	
een en 'n half (1)	een (1)
c. Die helfte van 8	d. Die helfte van 5
	
e. Die helfte van 12	f. Die helfte van 1
	
	

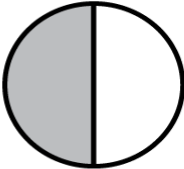
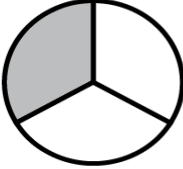
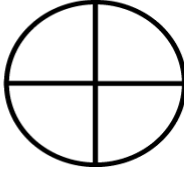
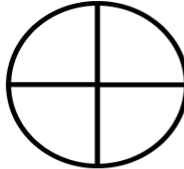
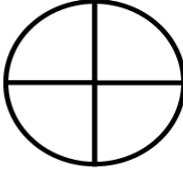

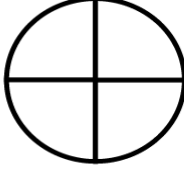
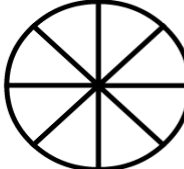
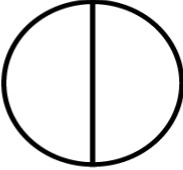
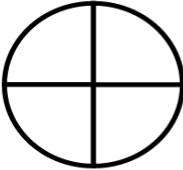
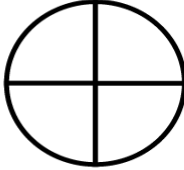

Laerskool Kruinsig

Wiskunde

Kwartaal 2 Week 6

Werkkaart 28

Kleur die breukdele in en skryf in die blok watter breuk die grootste is. As die breuk ewe groot is skryf jy die woorde

 halwe	 twee derdes	<input type="text"/>
 een kwart	 twee vierdes	<input type="text"/>
 een vierde	 een derde	<input type="text"/>
 een vierde	 twee agtstes	<input type="text"/>
 halwe	 drie vierdes	<input type="text"/>
 twee vierdes	 drie vyfdes	<input type="text"/>