

Wiskunde

1 Junie – 5 Junie

Gebruik jou blou
werkkaartboek om die
volgende te doen.

Maandag – bl. 11, werkkaart 10

Dinsdag – bl. 12, werkkaart 12

Woensdag – bl. 13, werkkaart 13

Donderdag – bl. 10,
aanvullende werk

Laerskool Kruinsig

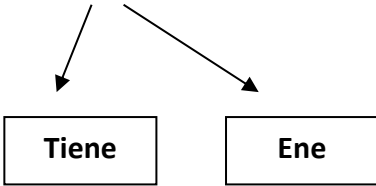
Wiskunde

Kwartaal 2 Week 3

Werkkaart 10

Plekwaarde

bv. 49



$$49 = \boxed{4} \text{ tiene} + \boxed{9} \text{ ene}$$

1. Voltooi die volgende:

a. $33 = \boxed{}$ tiene + $\boxed{}$ ene

b. $15 = \boxed{}$ tien + $\boxed{}$ ene

c. $53 = \boxed{}$ tiene + $\boxed{}$ ene

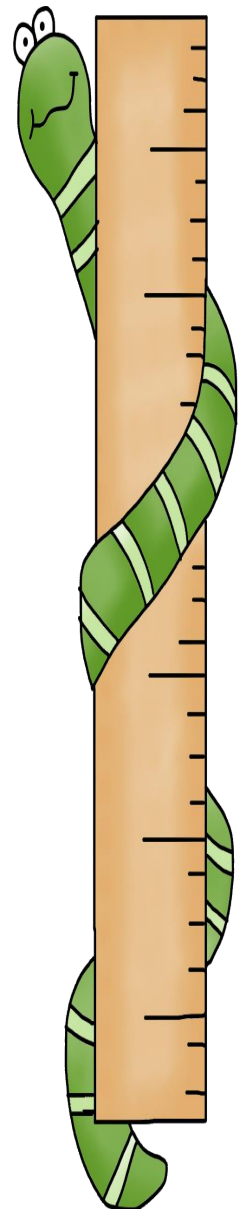
d. $78 = \boxed{}$ tiene + $\boxed{}$ ene

e. $10 = \boxed{}$ tien + $\boxed{}$ ene

f. $28 = \boxed{}$ tiene + $\boxed{}$ ene

g. $41 = \boxed{}$ tiene + $\boxed{}$ ene

h. $55 = \boxed{}$ tiene + $\boxed{}$ ene



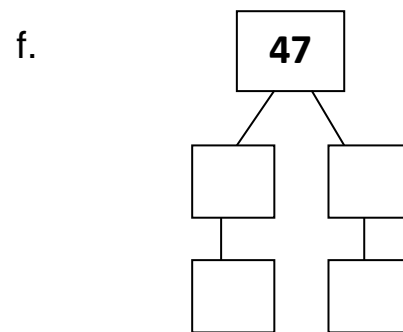
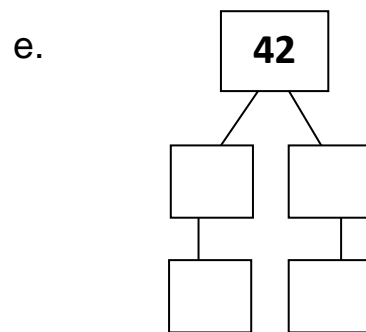
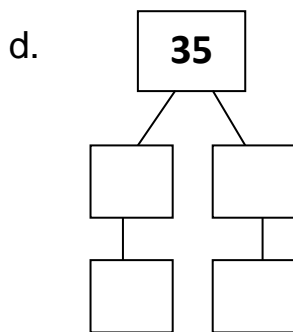
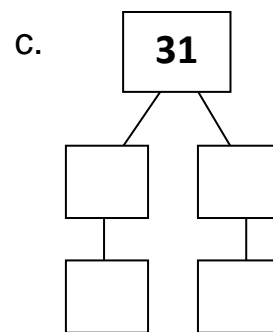
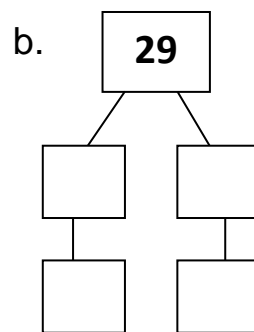
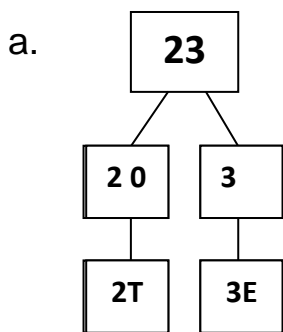
Laerskool Kruinsig

Wiskunde

Kwartaal 2 Week 3

Werkkaart 12

1. Breek die getalle af. Kyk na die voorbeeld en voltooi die res op dieselfde manier.



2. Voltooi die volgende.

a. $25 = 20 + \underline{\quad}$

b. $48 = \underline{\quad} + \underline{\quad}$

c. $17 = \underline{\quad} + 7$

d. $\underline{\quad} = 30 + 6$

Laerskool Kruinsig
Wiskunde
Kwartaal 2 Week 3
Werkkaart 13

1. Wat is die waarde van die onderstreepte getal:

a.	<u>1</u> 9	→	_____	b.	2 <u>4</u>	→	_____
c.	4 <u>7</u>	→	_____	d.	<u>5</u> 1	→	_____
e.	<u>3</u> 3	→	_____	f.	2 <u>1</u>	→	_____
g.	<u>1</u> 5	→	_____	h.	3 <u>6</u>	→	_____
i.	4 <u>1</u>	→	_____	j.	<u>1</u> 3	→	_____
k.	<u>2</u> 7	→	_____	l.	<u>3</u> 2	→	_____

Laerskool Kruinsig
Wiskunde
Kwartaal 2 Week 2
Werkkaart (Aanvullend)

1. Rangskik die volgende getalle:

a. van **kleinste** na **grootste**.

18	1	15	13	5	10	8	3	11	7

b. van **grootste** na **kleinste**.

18	21	15	24	19	22	17	20	23	16

c. van **kleinste** na **grootste**.

26	31	28	25	33	30	27	34	32	29

d. van **grootste** na **kleinste**.

30	37	43	35	40	42	38	45	32	37

