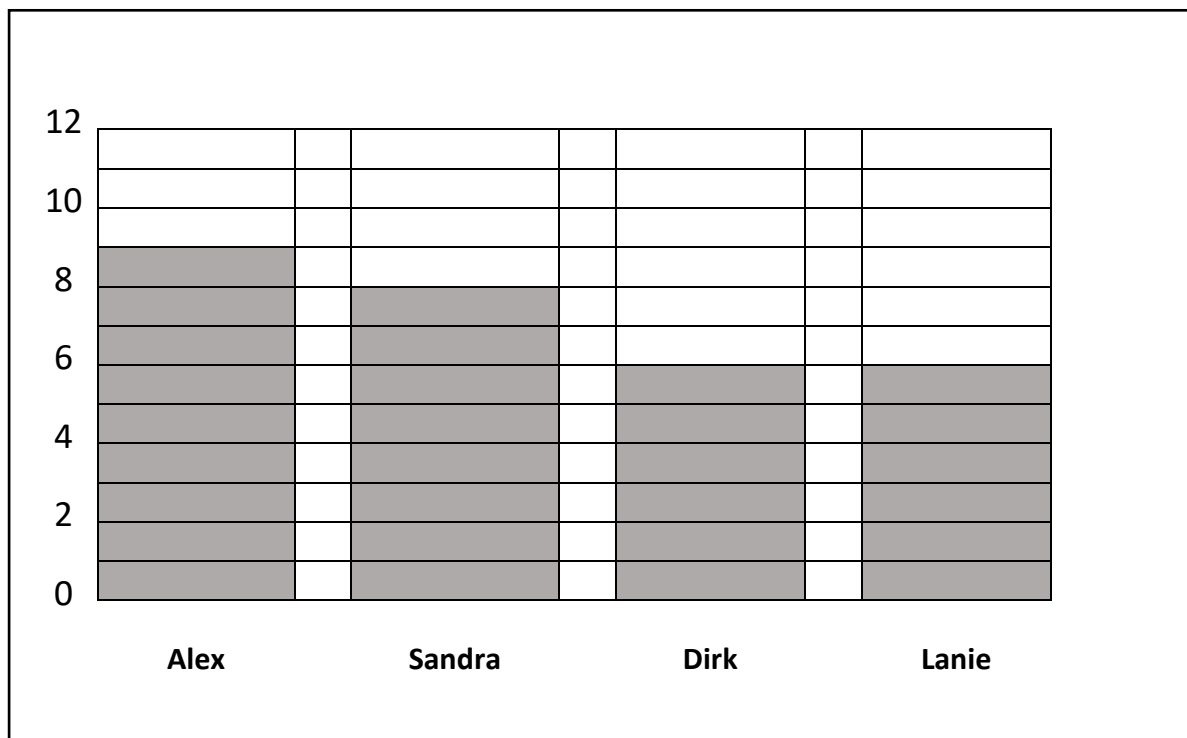



Laerskool Kruinsig
Wiskunde Werkkaart 1 Datahantering
Maandag 29 Junie 2020

Bestudeer die staafgrafiek en beantwoord die vrae:



- a) Hoeveel boeke het Alex gelees? _____
- b) Hoeveel boeke het Sandra meer as Lanie gelees? _____
- c) Watter twee kinders het tussen 5 en 10 boeke gelees?

- d) Hoeveel boeke het die kinders in totaal gelees?
Getalsin: _____



Laerskool Kruinsig

Wiskunde Werkkaart 2 Datahantering

Dinsdag 30 Junie 2020

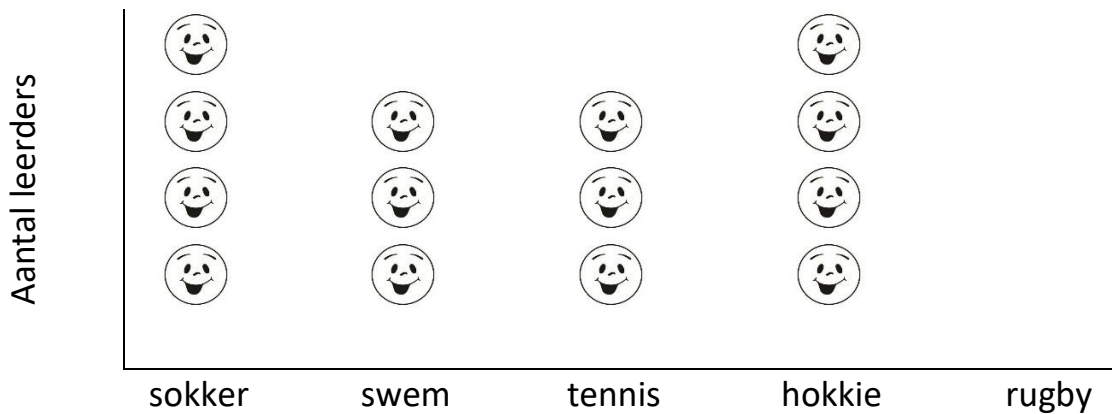
Doen die volgende:

Die piktoogram toon die aantal leerders in 'n Graad 3 klas wat sokker, swem, tennis, hokkie of rugby as hul gunsteling buitemuurse aktiwiteit gekies het.



Stel 2 leerders voor

Leerders se gunsteling sportsoort



- Benoem die aantal leerders wat tennis gekies het.
- Watter sportsoort is die gewildste?
- Watter sportsoort hou die leerders die minste van?
- Rangskik die sportsoorte van die gewildste tot die ongewildste.
- Hoeveel leerders het aan hierdie opname deelgeneem?



Laerskool Kruinsig
 Wiskunde Werkkaart 3 Datahantering
 Woensdag 1 Julie 2020

Kyk na die grafiek en beantwoord die vrae:

		Sportaktiwiteite				
		Netbal	Rugby	Sokker	Tennis	Hokkie
Aantal leerders	45					
	40					
	35					
	30					
	25					
	20					
	15					
	10					
	5					

1. Hoeveel sportaktiwiteite is daar beskikbaar? _____
2. Hoeveel leerders neem deel aan hokkie? _____
3. Wat is die gewildste sport? _____
4. Wat is die sport waaraan die leerders die minste deelneem?

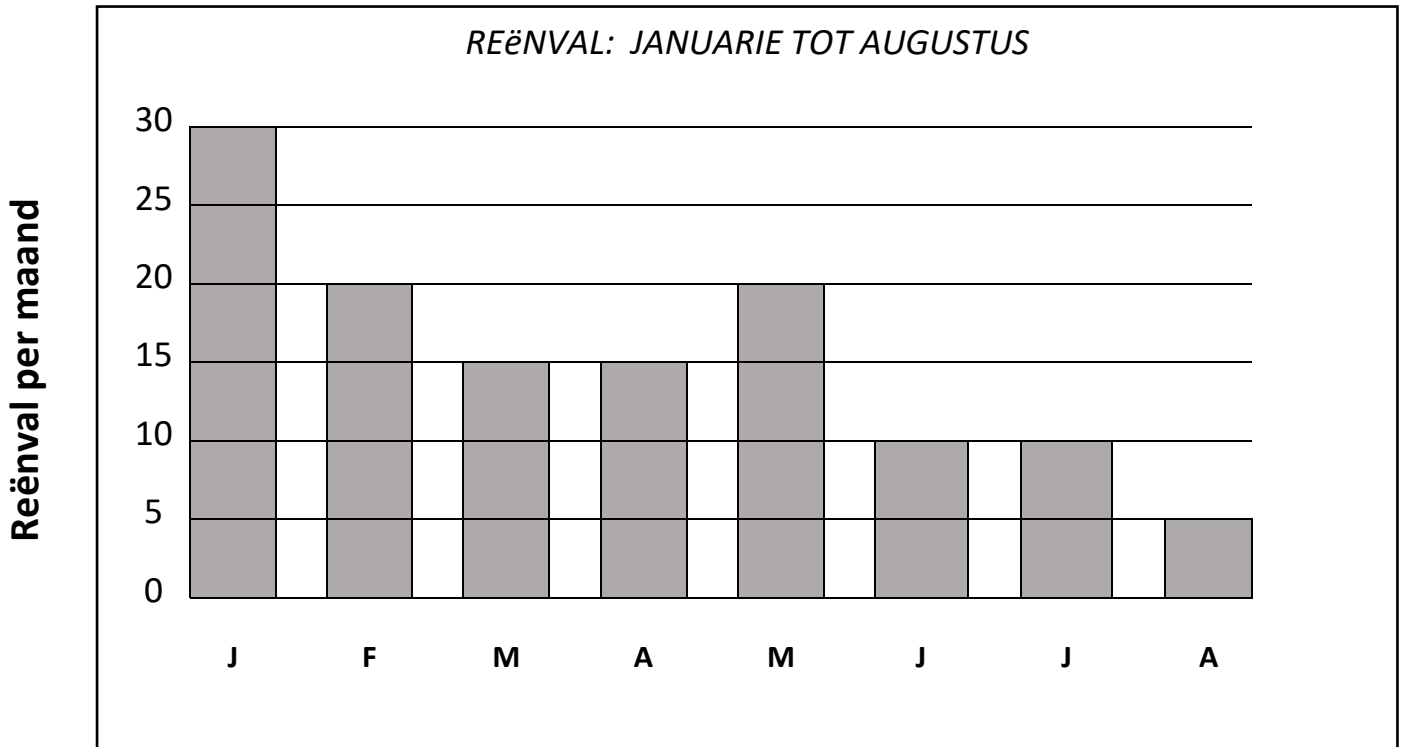
5. In watter sportaktiwiteit neem dieselfde aantal leerders deel?

6. Hoeveel meer leerders neem aan rugby deel as krieket? _____




Laerskool Kruinsig
Wiskunde Werkkaart 4 Datahantering
Donderdag 2 Julie 2020

Bestudeer die volgende staafgrafiek en beantwoord die vrae:



- a) Watter maand het die minste reëndae gehad? _____
- b) Watter maand het die meeste reëndae gehad? _____
- c) Hoeveel reëndae het Junie gehad? _____
- d) Hoeveel reëndae was daar in die eerste helfte van die jaar? _____
- e) Hoeveel reëndae het Maart minder as Januarie gehad? _____
- f) Kan jy 'n rede gee vir die min reënvaldae in Junie, Julie en Augustus?



English Worksheet

Grade 3 : Term 2

Reading Comprehension 3

29 – 3 July

Zak and Mia

Joe got 2 new dogs today. Their names are Zak and Mia. Zak is black and Mia is white with brown spots.

They are very naughty. When Joe wanted to put on his school socks, they were full of holes and Mia pulled out his shoelaces.

At the toilet, Zak was rolling off the toilet paper and he ran off with it down the passage. Joe starts to roll the toilet paper up slowly. "Oh no." Sighs Joe. I did not know it's going to be such hard work to have dogs.

Question:

1. How many dogs did Joe get?
2. What are their names?
3. What happened when Joe wanted to put on his shoes?
4. What did Zak do in the bathroom?
5. Did Joe think it is going to be easy looking after the dogs?
6. Do you have dogs and what do you like about them?

Fill in the missing Punctuation marks

1. my dog blacky loves to go for a walk

2. i saw a horse down the street It was brown and white

3. she bought oranges apples banana and watermelon from the
shop

4. what would you like to eat

5. watch out for the lion



English Worksheet

Grade 3: Term 2

Phonics: oo – sound

“oo” can make the sound in “moo”.

1. Finish the sentence with one of the words below.

school	moon	foods	room
--------	------	-------	------

1. My mother told me to clean my _____.
2. The _____ is full. Watch out for werewolves.
3. Yay, it's the weekend! There is no _____.
4. Pizza and ice cream are my favourite _____.

2. Beginning and ending sound

m _____	oo	_____ n	1. _____
b _____		_____ k	2. _____
c _____		_____ l	3. _____
t _____		_____ th	4. _____
babb _____		_____ n	5. _____



Laerskool Kruinsig Afrikaans Kwartaal 2



(datum) 29 Junie

(opskrif) Werkwoorde

Skryf die sinne oor in jou lyntjiesboek.

Omkring die werkwoord met jou kleurpotlood.

- 1) Pouse skop die seuns die bal vir mekaar.
- 2) Ouma brei vir my 'n trui, want dis baie koud.
- 3) Die meisie vang die bal en gooi dit deur die net.
- 4) Juffrou verduidelik die som en skryf dit dan op die bord.
- 5) Pappa braai vleis en ek dek die tafel vir mamma.

Lees hierdie versamelname en kyk of jy dit ken

'n klomp voëls is 'n swerm



'n klomp mense is 'n skare



'n klomp visse is 'n skool




'n klomp blomme is 'n bos



'n klomp duiwe is 'n tros



'n klomp skape is 'n trop





Laerskool Kruinsig
Afrikaans Kwartaal 2



(datum) 30 Junie

(opskrif) Werkwoorde

Lees die werkwoorde in die blok.

Gebruik die werkwoorde en skryf 5 sinne in boek.

(onthou 8 woorde of meer in 'n sin)

geslaap	gaap	ruik
knip	gedrink	spit
praat	kou	gery

- 1) _____
- 2) _____
- 3) _____
- 4) _____
- 5) _____

Lees hierdie intensiewe vorme en kyk of jy dit ken

Baie geel is goudgeel



Baie koud is yskoud



Baie vining is blitsvinnig



Baie glad is seepglad



Baie ryk is skatryk





Laerskool Kruinsig
Afrikaans Kwartaal 2



(datum) 1 Julie

(opskrif) Boekresensie

Skryf 'n boekresensie oor 'n boek wat jy onlangs gelees het.

Titel: (die naam van die boek wat jy gelees het.)

Skrywer: (person wat die boek geskryf het)

My boek gaan oor.....
(skryf 3 sinne waarom jou boek handel)



Ek het gehou/nie gehou van die boek nie, want
(skryf 2 sinne)



Die karakter waarvan ek die minste/meeste gehou het is..... en
hoekom?

Die verlore hasie

In die paadjie sien Sarel 'n swart en wit hasie. Die hasie wip op sy skoen en begin aan sy skoenriem knibbel.

Stadig buk Sarel. Versigtig tel hy die hasie op. Die hasie het blou oë en lang syagtige ore. Sarel streel die sagte rug. Die hasie knibbel aan sy das.

“Jy is iemand se troeteldiertjie,” sê Sarel.

“Miskien het jy verdwaal.”

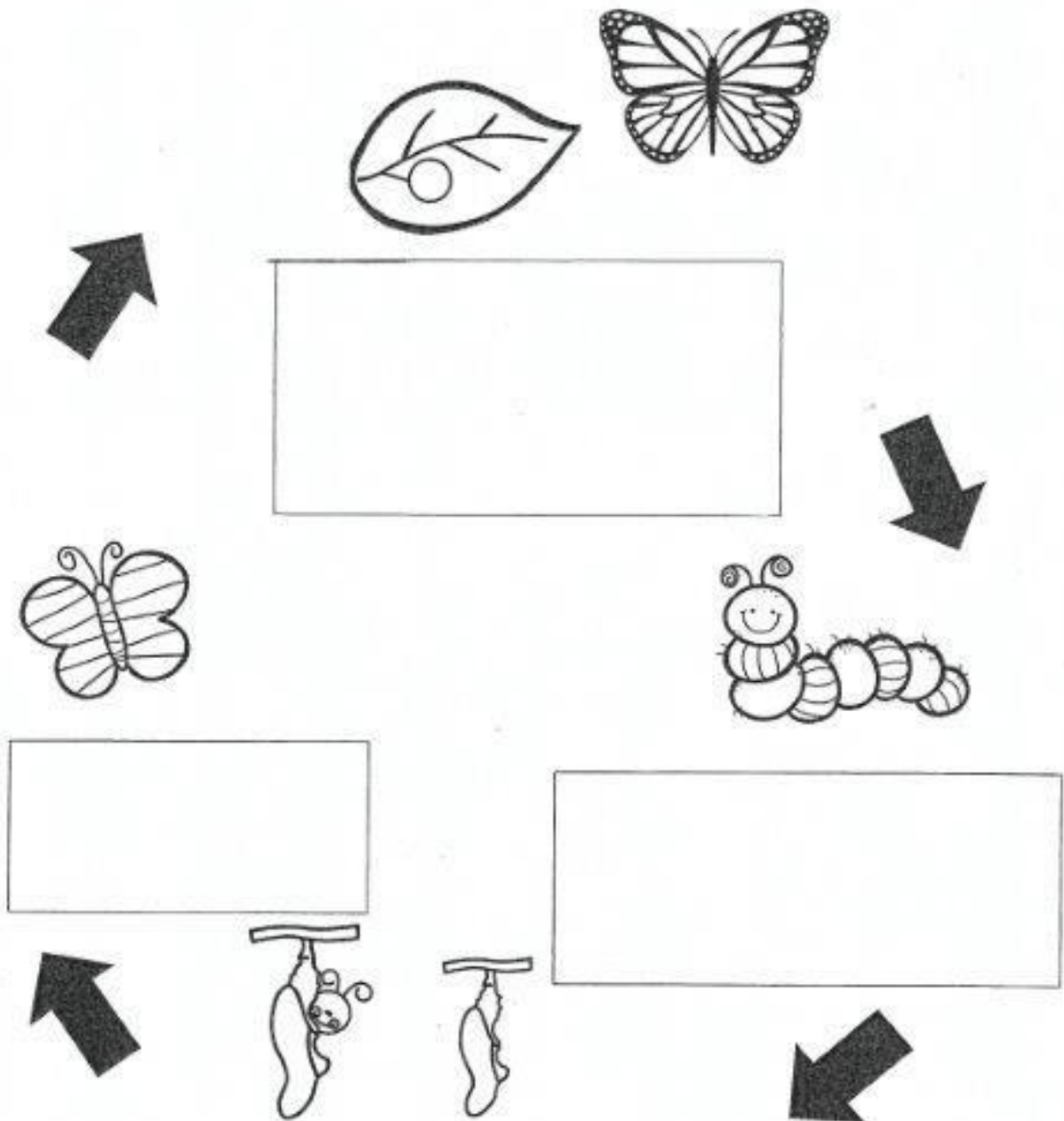
Beantwoord die volgende vrae in jou boek:

1. Waar het Sarel die hasie gekry?
2. Watter kleur is die hasie?
3. Het die hasie van Sarel af weg gewip?
4. Wat het die hasie aan sy skoen gedoen?
5. Waarom dink jy, het Sarel stadig gebuk?
6. Watter woord sê vir ons dat die hasie se ore soos sy gevoel het?
7. Waaraan het die hasie geknibbel toe Sarel hom gestreel het?
8. Dink jy die hasie was iemand se troeteldier?
9. Waarom dink jy so?

LAERSKOOL KRUINSIG

Lewensvaardigheid Gr.3
Werkkaart

Die lewensiklus van die vlinder:



Wanneer die larwe groot genoeg is, spin hy 'n sydraadjie waarmee hy homself aan 'n takkie of die onderkant van 'n blaar vasheg.

Wanneer hy daarna vervel, kom 'n papie uit die ou vel te voorskyn.

Die papie het 'n dop wat binne 'n uur of twee hard word.

LAERSKOOI KRUINSIG

Lewensvaardigheid Gr.3 Werkkaart

Die lewensiklus van die hoender:

Kyk na die prentjies en praat met jou maats oor die lewensiklus van die hoender. Skryf dan wat in elke stadium gebeur:

